



UPN

**UNIVERSIDAD
PRIVADA
DEL NORTE**

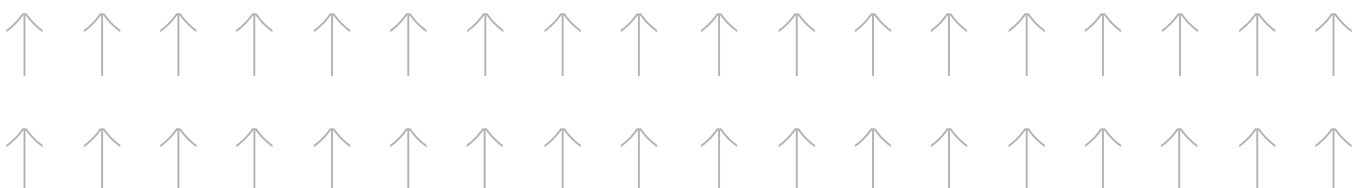
BALOTARIO PARA

EL EXAMEN DE

CONOCIMIENTOS

Y APTITUDES

← 2022-1



↑ CUESTIONARIO: LIDERAZGO PERSONAL

1. La habilidad para manejar nuestras propias emociones y nuestro potencial interior para mantener relaciones positivas se denomina:
 - A. Inteligencia emocional
 - B. Asertividad
 - C. Inteligencia comunicacional
 - D. Empatía

2. Una de las alternativas forma parte de la idea de Motivación.
 - A. Optimismo
 - B. Adaptabilidad
 - C. Habilidad Social
 - D. Control de las acciones

3. Señale qué actitud no corresponde a un comportamiento asertivo.
 - A. Comprende que siempre debe ganar
 - B. Se siente libre para manifestarse
 - C. Puede comunicarse con personas de todos los niveles
 - D. Orientación activa en la vida, va tras lo que quiere

4. La actividad de influir en la gente para que se empeñe de buena gana por los objetivos del grupo (Hersey, 1998).
 - A. Liderazgo
 - B. Jefatura
 - C. Administración
 - D. Habilidad

5. No es función de un líder.
 - A. Imponer
 - B. Motivar
 - C. Controlar
 - D. Integrar

6. Señale el término que no es una emoción.
 - A. Llanto
 - B. Temor
 - C. Enojo
 - D. Tristeza

7. Marque la alternativa que señale las emociones básicas negativas del ser humano.
 - A. Temor, enojo, tristeza, asco
 - B. Alegría, tristeza, colera, ansiedad
 - C. Carisma, depresión, alegría, rabia
 - D. Enojo, ansiedad, alegría, asco

8. El siguiente proverbio africano dice: “Si quieres ir rápido, camina solo. Si quieres llegar lejos, camina acompañado” representa el comportamiento de un...
 - A. Líder
 - B. Jefe
 - C. Director
 - D. Capitán

9. Señale la expresión correcta con respecto al liderazgo.
 - A. Todos pueden liderar
 - B. El liderazgo es ambición
 - C. Un líder siempre debe mandar
 - D. Para ser líder tienes que nacer líder

10. Al sentimiento de identificación con algo o alguien se denomina:
 - A. Empatía
 - B. Habilidades sociales
 - C. Comunicación intrapersonal
 - D. Comunicación interpersonal

11. Para poder desarrollarnos como personas debemos:
 - A. Aceptarnos
 - B. Retarnos
 - C. Hacer solo lo que nos gusta
 - D. Permanecer en nuestra zona de confort

12. La teoría define la inteligencia emocional como la capacidad de reconocer y manejar nuestros propios sentimientos y entablar relaciones adecuadas
 - A. D. Goleman
 - B. D. Fishman
 - C. D. Mingall
 - D. D. Viñas

13. La falta de amor propio es una señal de:
 - A. Baja Autoestima
 - B. Estima poco tolerante
 - C. Poco autoconocimiento
 - D. Baja motivación

14. Teoría piramidal que se centra en cubrir las necesidades básicas para pasar a deseos más elevados
 - A. Teoría de las Necesidades – Maslow
 - B. Teoría de la Motivación – McClelland
 - C. Teoría de los Factores – Herzberg
 - D. Teoría del Reforzamiento – Skinner

15. Cuando una persona se puede comunicar correctamente, escuchando y dejando entender su pedido hacia los demás corresponde a un comportamiento:
 - A. Asertivo
 - B. Trabajo en equipo
 - C. Social
 - D. Manipulador

16. La angustia no es:
- A. Un comportamiento
 - B. Una emoción
 - C. Un sentimiento
 - D. Un Pensamiento
17. Un líder es la persona que:
- A. Todas las otras opciones
 - B. Enseña
 - C. Motiva
 - D. Dirige
18. La principal función de un líder es:
- A. Motivar
 - B. Delegar
 - C. Desanimar
 - D. Controlar
19. No es una característica del liderazgo:
- A. Desinformar
 - B. Innovar
 - C. Agilizar
 - D. Delegar
20. Señala la respuesta correcta
- A. La eficacia personal es muy importante para la autoformación
 - B. La eficacia personal se desarrolla grupalmente
 - C. La eficacia personal es innata
 - D. La eficacia personal no es la relación entre los conocimientos y la acción

↑ CUESTIONARIO: COMPETENCIA SOCIAL Y CIUDADANA

1. Son parte de la cultura las:
 - A. Costumbres, rituales, vestimenta
 - B. Formas y atributos
 - C. Denominaciones, la economía
 - D. Ninguna de las otras opciones
2. Cuáles son derechos fundamentales de la persona:
 - A. Los derechos humanos
 - B. Los derechos sociales
 - C. Los derechos laborales
 - D. Los derechos de vivir y dejar vivir
3. Que el gobierno sea democrático significa que
 - A. respeta las decisiones y formas de participación de todos los ciudadanos
 - B. trabaja para el bien de la sociedad y de las clases sociales
 - C. vigila que se acaten las normas
 - D. comparte la forma de pensar con los ciudadanos
4. Un padre de familia da educación a sus hijos y exige al Estado el poder elegir la educación que mejor le parece, se cumple aquí:
 - A. Un deber y un derecho
 - B. Un derecho
 - C. Un deber
 - D. Libertad
5. La semana pasada se inició la campaña de vacunación y todas las madres, con sus niños y niñas, acudieron a la posta.

Ante esta situación, las madres y sus niños están ejerciendo su derecho:

- A. a la salud
 - B. a la recreación
 - C. al voto
 - D. a la alimentación
-
6. Todo proceso de participación democrática busca:
 - A. la libertad, la igualdad y la justicia
 - B. la libertad, la economía y el Mercado
 - C. la igualdad, el desarrollo y el neoliberalismo
 - D. la riqueza, el cambio y el perdón

7. La Constitución Política señala que la célula básica de la Sociedad y el Estado es:
- La familia
 - La vida humana
 - El matrimonio
 - La persona humana
8. Sostener que un negocio es próspero porque recibió la bendición divina, manifiesta una actitud:
- Religiosa
 - Científica
 - Filosófica
 - Moral
9. _____ es el orden jerárquico de los valores vigentes dentro de una sociedad.
- Escala de valores
 - Crisis de valores
 - Cuadro moral
 - Juicios de valor
10. A diferencia de los animales, el hombre posee el don de..... Esta capacidad le permite crear escalas de valores y determinar las consecuencias de sus acciones.
- Razonar
 - Sentir
 - Hablar
 - Actuar
11. Es el principio que reconoce a todos los ciudadanos capacidad para los mismos derechos.
- Igualdad
 - Dignidad
 - Libertad
 - Solidaridad
12. Qué alternativa señala uno de los derechos fundamentales de la persona:
- Los derechos humanos
 - Los derechos sociales
 - Los derechos laborales
 - Los derechos de vivir y dejar vivir
13. El derecho a la información se sustenta en:
- La Constitución Política del Perú
 - Los Derechos Humanos Universales
 - Código Civil
 - Código Penal
14. La vacunación contra el Covid-19 inició con los ciudadanos de primera línea y los adultos mayores, sin embargo, las demás personas esperan que se cumpla con ellos. Esta exigencia es un derecho a:
- La salud
 - La igualdad
 - La no discriminación
 - Libertad

15. Es un deber del ciudadano:
- A. Respetar, cumplir y defender la Constitución Política
 - B. Respetar las votaciones presidenciales y municipales
 - C. Participar en los referendos
 - D. Cumplir con las elecciones generales.
16. El propósito fundamental de la Declaración Universal de los Derechos Humanos es:
- A. Garantizar a todos la igualdad de los derechos fundamentales
 - B. Disminuir los conflictos políticos entre las naciones
 - C. Promover los derechos políticos de personas con buena educación
 - D. Hacer posible que se creen nuevos países.
17. La _____ nos permite distinguir lo correcto de lo _____.
- A. Conciencia moral / incorrecto
 - B. Responsabilidad moral / incorrecto
 - C. Seriedad moral / incorrecto
 - D. Libertad moral / injusto
18. No discriminar a la gente por su raza o etnia, es un acto de la:
- A. Conciencia moral
 - B. Conciencia personal
 - C. Ética moral
 - D. Conciencia ética
19. Un docente corrige las evaluaciones finales del ciclo. No interesa de quién sea, solo aplica la calificación que corresponde.
- A. Justicia
 - B. Amor
 - C. Bondad
 - D. Libertad
20. Capacidad que permite al hombre crear escalas de valores y determinar las consecuencias de sus acciones.
- A. Razonar
 - B. Valorar
 - C. Pensar
 - D. Actuar

↑ CUESTIONARIO: HABILIDAD VERBAL

1. César Abraham Vallejo Mendoza fue un poeta y escritor peruano, considerado como uno de los mayores innovadores de la poesía del siglo XX y el exponente máximo de las letras en nuestro país. La palabra EXPONENTE se puede reemplazar por:
 - A. modelo
 - B. actor
 - C. autor
 - D. poeta
2. Algunos miembros del Parlamento, que fue disuelto, han decidido participar en los **comicios** programados para el mes de enero del 2020. Sin embargo, el pleno del Jurado Nacional de Elecciones (JNE) aún no ha determinado si los exlegisladores podrán participar. La palabra resaltada puede ser reemplazada por:
 - A. elecciones
 - B. comisiones
 - C. delegaciones
 - D. proyectos
3. La ciudad de Ica fue **devastada** por el terremoto producido el 15 de agosto del 2007. Este movimiento telúrico fue de 7.9 de magnitud en la escala de Richter, el cual provocó la muerte de cientos de peruanos y más de medio millón de damnificados. La palabra resaltada puede ser reemplazada por:
 - A. destruida
 - B. reconstruida
 - C. restaurada
 - D. redificada
4. La **ignorancia** produce miedo, sometimiento, atraso, abuso y fanatismo. Este es un problema social latente que solo se combate con una buena educación. ¿Cuál es el antónimo de la palabra resaltada?
 - A. sabiduría
 - B. desconocimiento
 - C. analfabetismo
 - D. incultura
5. El calentamiento global está provocando el deshielo de los polos y glaciares, específicamente, el derretimiento acelerado de la cordillera de los Andes. Por lo tanto, empecemos por ahorrar energía y tratar de consumir menos carne. ¿Qué término señala el significado contrario de la palabra AHORRAR?
 - A. derrochar
 - B. reservar
 - C. conservar
 - D. atesorar

6. **Desistir** no es una opción, si lo que deseas es alcanzar tus metas. Solo debes trabajar con entusiasmo y dedicación. ¿Qué término expresa el significado opuesto de la palabra resaltada?
- A. perseverar
 - B. abandonar
 - C. renunciar
 - D. dejar
7. La población peruana no debería ajusticiar a los delincuentes, _____ solo generaría más violencia en la sociedad. Completa el espacio en blanco con el conector lógico más apropiado.
- A. porque
 - B. luego
 - C. también
 - D. puesto que
8. Los estudiantes de la carrera de Arquitectura de la UPN desean visitar la Ciudad Sagrada de Caral; _____, no podrán hacerlo en este ciclo académico. Completa el espacio en blanco con el conector lógico más apropiado.
- A. sin embargo
 - B. en resumen
 - C. en consecuencia
 - D. además
9. Marque la alternativa que guarde el mismo tipo de relación analógica del par propuesto.
ALABAR: ELOGIAR
- A. Guerrear: batallar
 - B. solidario: generoso
 - C. malvado: vil
 - D. roñoso: tacaño
10. Marque la alternativa que guarde el mismo tipo de relación analógica del par propuesto.
LLAMA: ALPACA
- A. tigre: otorongo
 - B. león: mamífero
 - C. avestruz: ave
 - D. iguana: reptil

11. La búsqueda de la igualdad de oportunidades entre hombres y mujeres va más allá de la posibilidad al acceso de los estudios. Por ejemplo, falta valorar la presencia de ellas en los puestos de gerencia.

La palabra GERENCIA se puede reemplazar por:

- A. mando
- B. colaboración
- C. servicio
- D. comunicación

12. La piratería lesiona la industria libresco y cinematográfica del país, ya que no reconoce el trabajo de las diferentes personas que están detrás de un libro o una película. Por eso, debería ser erradicada.

La palabra LESIONA se puede reemplazar por:

- A. hierde
- B. mata
- C. destruye
- D. fomenta

13. Comer una hamburguesa al paso nos puede facilitar la vida cuando no tenemos tiempo preparar nuestros alimentos. Sin embargo, con el tiempo nos pasa factura porque este tipo de alimentos tiene mucha grasa y calorías.

La frase PASA FACTURA se emplea en el sentido de:

- A. perjudica
- B. alivia
- C. alimenta
- D. beneficia

14. César Vallejo es uno de nuestros mejores representantes en la poesía. También, cultivó la narración, la obra dramática y el ensayo, estos escritos reflejan su gran interés social. Por ello, se le considera un gran intelectual

¿Qué término señala el significado opuesto de la palabra INTELECTUAL?

- A. inculto
- B. sabio
- C. omnipresente
- D. dadivoso

15. Mi padre guarda en el cajón del bar el vino más añejo que posee. Rafael no entiende la importancia del tiempo para este tipo de bebidas. En cambio, Carlos reconoce el olor y color que pueden tener.

La palabra AÑEJO es antónimo del término:

- A. nuevo
 - B. envejecido
 - C. caro
 - D. selecto
16. Todos participamos de la investigación, pero Javier impulsó el trabajo con su liderazgo y compromiso; _____, el profesor lo felicitó.
- A. por ello
 - B. además
 - C. incluso
 - D. entonces
17. Al final del ciclo, la Universidad ha preparado un concierto. Todos estamos invitados; _____, nos esforzamos bastante y anhelamos que ese día llegue.
- A. por esa razón
 - B. debido a que
 - C. de esa manera
 - D. además
18. Marque la alternativa que guarde el mismo tipo de relación analógica del par propuesto.
INVESTIGAR: DESCUBRIR
- A. estudiar: aprender
 - B. experiencia: practicar
 - C. ciencia: conocimiento
 - D. canté: gané
19. Marque la alternativa que guarde el mismo tipo de relación analógica del par propuesto.
MAZAMORRA: POSTRE
- A. tamal: entrada
 - B. refrigerio: cena
 - C. sopa: caldo
 - D. almuerzo: tallarín
20. Marque la alternativa que guarde el mismo tipo de relación analógica del par propuesto.
ABOGADO: LEY
- A. profesor: educación
 - B. medicina: salud
 - C. banquero: intereses
 - D. odontólogo: caries

↑ CUESTIONARIO: COMUNICACIÓN

Ética Nicomáquea de Aristóteles

Cuando actuamos racionalmente, nos dejamos conducir por la noción del bien. Si vamos a comprar un reloj, queremos que este sea de buena calidad. Lo mismo vale para un automóvil, un par de zapatos, la educación de nuestros hijos, un tratamiento médico, etc. A lo que apuntamos es a la calidad o bondad de lo obtenido. Deseamos cosas que nos resulten benéficas, si aspiramos a lo bueno (y tratamos de evitar lo malo) resulta razonable concebir las cosas buenas o bienes como metas o fines. Si reflexionamos sobre nuestras aspiraciones y actividades, tendremos que reconocer que apuntamos a diversas metas y que algunas de ellas se entrelazan con otras. Un joven se propone como meta terminar su educación media, para poder dar la prueba de aptitud académica, así ingresar a la universidad, obtener un título profesional, conseguir un buen trabajo, ganar un buen sueldo, etcétera. La cadena de metas o fines parece no terminar nunca, pero, de hecho, llega a un punto final. Tarde o temprano, esa persona dirá que hace todo eso «para ser feliz».

Recuperado y adaptado de Gómez Lobo, A. (1994)
http://www.cepchile.cl/dms/archivo_1794_551/rev56_gomezlobo.pdf

1. ¿Cuál es la idea principal que se puede desprender de la lectura?
 - A. La práctica del bien se encuentra asociada a la búsqueda de la felicidad.
 - B. Los referentes femeninos actuales conviven aún con los viejos modelos machistas.
 - C. Las mujeres redefinen su verdadero rol dentro de la sociedad.
 - D. La identidad de la mujer ha sufrido mayores cambios sociales, en las últimas décadas.
2. ¿Por qué, según el autor, la búsqueda del bien nace de una actitud racional?
 - A. Porque el uso de la razón nos lleva a preferir lo bueno, por encima de lo malo.
 - B. Porque la noción del bien se rige, de acuerdo a la moral de cada cultura.
 - C. Porque debemos prever las consecuencias de practicar el bien.
 - D. Porque el bien y el mal son productos de la sinrazón de cada pueblo.

3. La presente oración:

El pueblo chileno ha manifestado su descontento en las calles.

Presenta la siguiente estructura sintáctica:

- A. MD - NS - MD - NP - OD - CIRC (L)
 - B. MD - NS - MD - NP - OI - CIRC (T)
 - C. NS - ND - MD - NP - OD - CIRC (T)
 - D. MD - MD - NS - NP - OD - CIRC (M)
4. De acuerdo a los componentes de la oración, ¿qué función cumple el elemento subrayado?

Las cosas simples de la vida otorgan a nuestra existencia belleza y tranquilidad.

 - A. Objeto directo
 - B. Objeto indirecto
 - C. Verbo
 - D. Sujeto

5. En un salón de clase, el profesor está dictando su tema, pero está algo resfriado y su voz es apenas audible, por lo que los alumnos no logran escucharlo a cabalidad. Aquí se ha producido “ruido” comunicativo principalmente a nivel de:
- A. Emisor
 - B. Receptor
 - C. Canal
 - D. Mensaje
6. ¿En qué oración el monosílabo “mas” no debe llevar tilde?
- A. Me compraría otro libro, mas no tengo dinero suficiente.
 - B. A más fracasos, más entusiasmo.
 - C. Quiero verte más seguido por aquí.
 - D. Cada vez somos más los alumnos responsables.
7. Elija la alternativa que presente todas las palabras acentuadas de manera correcta:
- A. Carótida, estúdialo, óbolo, dólares.
 - B. Antelación, resolvér, aminoácido.
 - C. Tristemente, fin, telégrama, dólar.
 - D. Tardío, acido, allí, anonimo.
8. ¿Qué par de palabras debe llevar diéresis?
- A. Antigüedad - cigüeña.
 - B. Higuera - arguir.
 - C. Aguijón – merengue
 - D. Gueto - vergüenza.
9. De acuerdo a la clasificación de categorías gramaticales, señale qué tipo de palabras son las subrayadas

El probo magistrado no dudó en reparar aquella injusticia.

- A. Adjetivo - sustantivo - verbo
- B. Sustantivo - adjetivo – verbo
- C. Sustantivo - adjetivo - adjetivo
- D. Adjetivo - sustantivo - pronombre

10. En la siguiente oración:

De pronto me dijo: ve a la sala y alcánzame mi maleta

Identifique en qué modo se encuentran los verbos subrayados:

- A. Indicativo - imperativo – imperative
 - B. Indicativo - imperativo – subjuntivo
 - C. Potencial - imperativo – imperative
 - D. Indicativo - subjuntivo – subjuntivo
11. ¿Qué alternativa presenta un caso de comunicación intrapersonal?
- A. Un monólogo
 - B. La lectura de una novela
 - C. Un político en un mitin
 - D. Una conversación por chat

12. Elena es el responsable del marketing de una campaña de responsabilidad social de su facultad. Además, de elaborar folletos y planificar una serie de acciones, ella cree que el evento debe contar con un logo. ¿Qué tipo de comunicación desea reforzar Elena?
- A. Comunicación no verbal visual
 - B. Comunicación no humana
 - C. Comunicación táctil
 - D. Comunicación verbal auditiva
13. ¿Qué alternativa presenta un caso de comunicación no verbal?
- A. Un saludo con las manos
 - B. La respuesta de una novia en el altar
 - C. Las arengas en una manifestación
 - D. La recomendación de un youtuber
14. Las mayúsculas se han empleado correctamente en:
- A. El miércoles leí tu artículo en diario El Peruano.
 - B. Arequipa es una Ciudad Encantadora.
 - C. El Río Amazonas es el más caudaloso del mundo.
 - D. Desde el Sábado estará prohibido ingresar al almacén del Museo.
15. ¿Cuál oración está bien escrita?
- A. Cuando haya terminado mi tarea, iremos al cine.
 - B. He hido temprano a la Universidad para terminar la tarea.
 - C. Has tu tarea y evita dejarla para último minuto.
 - D. Tú haz estudiado mucho; por eso, mereces tener el primer lugar.
16. Complete de manera adecuada el texto con el uso de las letras s,c,z:
- Ha... logrado la participación de todos tus compañeros, esto es un logro para ti. Po...ees una gran capacidad de lidera...go; por ello, serás seleccionado para la pa...antía.*
- A. s-s-z-s
 - B. z-s-s-z
 - C. z-s-s-s
 - D. s-c-z-z
17. De acuerdo al contexto del texto, ¿qué significa la frase “singularmente hermosa”?
- A. Es una mujer única en su especie o extraordinaria.
 - B. Es una mujer extranjera, debido a que es rubia y blanca.
 - C. Su belleza es engañosa, ya que su canto hechiza a los seres vivos.
 - D. Es una mujer delgada porque se puede esconder en el interior de los árboles.
18. ¿Cuál de las alternativas no corresponde al contenido del texto?
- A. El uso de mascarillas nos protege al 100%.
 - B. Es necesario cubrirse la boca con el codo flexionado al toser.
 - C. Se recomienda lavarse las manos.
 - D. Hay que evitar aglomeraciones.

19. ¿Cuál de los siguientes verbos es una condicional simple?

- A. estudiaría
- B. estudia
- C. estudiaré
- D. habría estudiado

20. De acuerdo a la clasificación de categorías gramaticales, señale qué tipo de palabras son las subrayadas.

El cafetín remodelado es muy llamativo y agradable.

- A. Sustantivo - adjetivo - verbo
- B. Sujeto - sustantivo - predicado
- C. Sustantivo - adjetivo - adjetivo
- D. Adjetivo - sustantivo - adverbio

↑ CUESTIONARIO: ACTUALIDAD Y CULTURA GENERAL

1. El volcán que se ubica en el departamento de Moquegua lleva el nombre de:
 - A. Ubinas
 - B. Sabancaya
 - C. Misti
 - D. Etna
2. ¿En qué cuenca hidrográfica se encuentran instaladas cinco centrales hidroeléctricas de gran importancia energética para Lima Metropolitana?
 - A. Rímac
 - B. Mantaro
 - C. Santa
 - D. Chillón
3. En el Perú, según las leyes vigentes y al criterio de circunscripción territorial, el nivel de un gobierno local abarca:
 - A. Distrito y provincia
 - B. Casería y pueblo
 - C. Departamento y distrito
 - D. Departamento y provincia
4. ¿Cuál es el río más largo de América Latina?
 - A. Amazonas
 - B. Orinoco
 - C. Paraná
 - D. Nilo
5. Santuario Histórico Peruano (1981) se encuentra en la lista del Patrimonio de la Humanidad de la Unesco desde 1983, como parte de todo un conjunto cultural y ecológico.
 - A. Machu Picchu
 - B. Tambomachay
 - C. Qoricancha
 - D. Saqsaywaman
6. ¿Qué relación es el que se da en el nacionalismo?
 - A. Amor a la nación
 - B. Amor a la libertad
 - C. Amor a la igualdad
 - D. Amor a la patria
7. La Constitución Política del Perú en su artículo 49 señala tres símbolos de la patria. Señale la alternativa correcta.
 - A. Himno, escudo y bandera
 - B. Escarapela, escudo y bandera
 - C. Himno, bandera y escarapela
 - D. Bandera, escudo, árbol de la quina

8. ¿Cuándo inicia la Edad Contemporánea?
- A. La Revolución Francesa
 - B. La Segunda Guerra Mundial
 - C. Caída del Imperio Romano
 - D. Descubrimiento de América
9. La Primera Revolución Industrial tuvo lugar en:
- A. Gran Bretaña
 - B. Francia
 - C. EE.UU.
 - D. España
10. Es el perdón que otorga el Estado y la Sociedad a las personas que han cometido determinados delitos en el campo político:
- A. Amnistía
 - B. Liberalismo
 - C. Deportación
 - D. Extinción
11. ¿Cuál es el idioma oficial de Brasil?
- A. Portugués
 - B. Brasileiro
 - C. Castellano
 - D. Todos los anteriores
12. ¿Qué país ocupa más de la mitad de la costa occidental de América del Sur?
- A. Chile
 - B. Perú
 - C. Brasil
 - D. Colombia
13. Denominación de las mujeres que eran escogidas por el inca:
- A. Acllas
 - B. Urpi
 - C. Llacolla
 - D. Sunturpaucar
14. Mejores ceramistas que se desarrollaron en La Libertad 100 a.C – 800 d.C. aproximadamente.
- A. Mochica
 - B. Chimú
 - C. Wari
 - D. Chavín
15. El reloj solar inca se denomina:
- A. Intihuatana
 - B. Sunturhuasi
 - C. Huaca inca
 - D. Picchu

16. Año en el que el grupo terrorista Al-Qaeda realiza un atentado contra las Torres Gemelas de Nueva York, EEUU.
- A. 2001
 - B. 2009
 - C. 1991
 - D. 2000
17. La Constitución Política del Perú en su artículo 49 señala tres símbolos de la patria. Señale la alternativa correcta.
- E. Todas las alternativas
 - F. Himno
 - G. Escudo
 - H. Bandera
18. La COVID-19 es la enfermedad causada por el nuevo coronavirus conocido como SARS-CoV-2. Esta apareció por primera vez en:
- A. Wuhan en la República Popular China
 - B. Wuhan en Japón
 - C. Italia Europa
 - D. Beijing
19. Organismo técnico encargado de la identificación de los peruanos, otorga el documento nacional de identidad, registra hechos vitales: nacimientos, matrimonios, defunciones, divorcios y otros que modifican el estado civil.
- A. RENIEC
 - B. ONPE
 - C. JNE
 - D. INEI
20. ¿Cuántos Congresistas tenemos en la actualidad?
- A. 130
 - B. 120
 - C. 125
 - D. 128

↑ CUESTIONARIO: TECNOLOGÍA Y HERRAMIENTAS INFORMÁTICAS

1. Son los componentes físicos y tangibles, es decir las partes que se pueden ver y tocar.
 - A. Hardware
 - B. Software
 - C. Programas
 - D. Instaladores
2. Es uno de los dispositivos más usados, tanto en oficina como en el hogar. permite tener el registro en una hoja de papel de la información contenida de la computadora.
 - A. Impresora
 - B. Escáner
 - C. Monitor
 - D. Teclado
3. Son programas que se introducen en nuestra computadora de forma muy diversa con el objetivo de hacerle daño a nuestra información
 - A. Virus
 - B. Antivirus
 - C. Word
 - D. Drivers
4. Es el sistema de comunicaciones global que enlaza a miles de redes individuales y es por ello que se le conoce como la red de redes.
 - A. Internet
 - B. Red
 - C. Wifi
 - D. Datos
5. Es un programa que permite manipular datos numéricos y alfanuméricos dispuestos en forma de tablas. Habitualmente es posible realizar cálculos complejos con fórmulas y funciones y dibujar distintos tipos de gráficas.
 - A. Excel
 - B. Power Point
 - C. Internet
 - D. Word
6. ¿Qué combinación de teclas me permite pegar el contenido copiado o en portapapeles?
 - A. Control + V
 - B. Control + C
 - C. Control + Z
 - D. Control + A
7. ¿Qué combinación de teclas me permite copiar un documento?
 - A. Control + C
 - B. Control + T
 - C. Control + Z
 - D. Control + A

8. Es un navegador
 - A. Google Chrome
 - B. Gozila Firefox
 - C. Ethernet explorer
 - D. Operación mini

9. Es un dispositivo de almacenamiento portátil
 - A. USB
 - B. Cuaderno
 - C. Memoria Rom
 - D. Memoria Ram

10. Es una red social para compartir fotos, estados, publicaciones y más.
 - A. Facebook
 - B. Notebook
 - C. Nube electrónica
 - D. Prezi

11. La mayor de las siguientes cantidades de memoria es:
 - A. 1 TB
 - B. 100 GB
 - C. 10 000 MB
 - D. 1 000 000 KB

12. El que tiene la menor capacidad es:
 - A. 1 CD
 - B. 1 DVD
 - C. 1 memoria USB de 8GB
 - D. 1 memoria USB de 4GB

13. Es aquello donde se graba la información de manera permanente e inmodificable:
 - A. Disco Blu-Ray
 - B. CD-RW
 - C. Memoria USB
 - D. Disco duro externo

14. En el teclado, la tecla Windows, sirve para:
 - A. Mostrar el menú de inicio.
 - B. Mostrar el explorador de Windows
 - C. Abrir la calculadora
 - D. Es solo decoración en el teclado

15. ¿Cuál de los siguientes es un navegador web?
 - A. Mozilla Firefox
 - B. Google
 - C. Yahoo!
 - D. Bing

16. De los siguientes. ¿Cuál no es un formato de imagen?
- A. pdf
 - B. jpg
 - C. png
 - D. gif
17. En Microsoft Word, ¿cuál es su utilización de la tecla Fin?
- A. Desplazarnos al final de una línea de texto
 - B. Cierra un archivo de Microsoft Word
 - C. Bloquea un texto
 - D. Cambiar tipo de fuente
18. ¿A qué programa hace referencia la extensión "xls"?
- A. Microsoft Excel
 - B. Microsoft Word
 - C. Microsoft Power Point
 - D. Microsoft Access
19. De las siguientes, ¿cuál es la red social para profesionales y empresas?
- A. LinkedIn
 - B. Facebook
 - C. Twitter
 - D. Instagram
20. Uno de los siguientes tipos de cuentas de correo no pertenece a Microsoft:
- A. Gmail
 - B. Hotmail
 - C. Outlook
 - D. Ninguna de las otras alternativas

↑ CUESTIONARIO: RAZONAMIENTO MATEMÁTICO

1. ¿cuántas bolitas habrá en la figura 5.



Fig. 1

Fig. 2

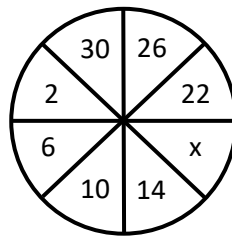
Fig. 3

Fig. 5

- A. 11
- B. 12
- C. 13
- D. 15

2. ¿Qué número completa la sucesión?

- A. 18
- B. 17
- C. 19
- D. 20



3. Cinco amigos van al cine y ocupan una fila de cinco asientos. Se observa que:

- * Erika está en el extremo izquierdo.
- * Paolo está entre Andrea y Sebastián.
- * Matias está a la derecha de Sebastián
- * Sebastián está sentado junto a Erika.


¿Quién ocupa la segunda posición de derecha a izquierda?

- A. Andrea
- B. Sebastián
- C. Paolo
- D. Matias

4. La siguiente tabla muestra los valores para dos magnitudes A y B directamente proporcionales. Determine: $x + y$

N° de camisas	2	3	5	y
Precio	40	60	x	160

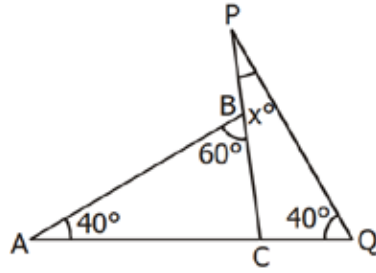
- A. 108
B. 110
C. 117
D. 106
5. Si el lado de un terreno cuadrado es $(x + 3)$, determine el área que ocupa.



- A. $x^2 + 6x + 9 \text{ cm}^2$
B. $x^2 + 6x + 12 \text{ cm}^2$
C. $x^2 + 6x + 3 \text{ cm}^2$
D. $x^2 + 2x + 9 \text{ cm}^2$
6. La suma de dos números es 32 y el mayor tiene 8 unidades más que el menor. Calcula el valor del número mayor.
- A. 20
B. 16
C. 20
D. 12
7. Cada niño de una escuela recibe 10 frutas por semana, pero como se retiran 20 niños ahora cada uno recibe 15 frutas por cada semana. ¿Cuántos niños eran en total al inicio?
- A. 60
B. 50
C. 30
D. 20

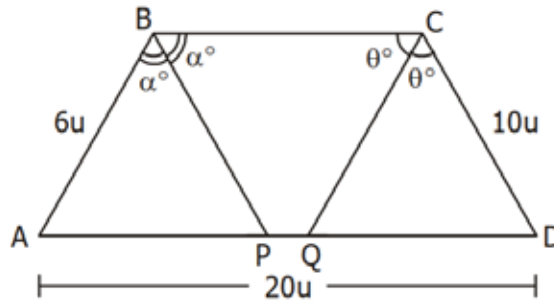
8. Determina el valor de "x°"

- A. 40
- B. 35
- C. 48
- D. 20



9. Siendo ABCD un trapecio, calcular "PQ".

- A. 4
- B. 5
- C. 8
- D. 2



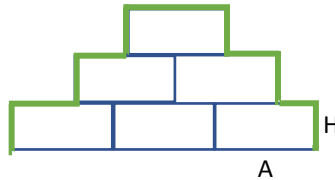
10. Las dimensiones de una pantalla led de 42 pulgadas son de 93 cm de ancho y 52 cm de alto, mientras que las de una pantalla led de 32 pulgadas son 88 cm de ancho y 50 cm de alto. ¿Cuál es la diferencia entre las superficies de ambas pantallas?

- A. 436 cm²
- B. 360 cm²
- C. 420 cm²
- D. 286 cm²




11. Hay seis ladrillos, cada uno de ancho A y altura H, están colocados en tres filas de tres, dos y un ladrillo respectivamente. ¿Cuál es el largo total de la línea gruesa verde en términos de A y H?

- A. 6H + 3A
- B. 5H + 3A
- C. 6H + 2A
- D. 3H + 3A

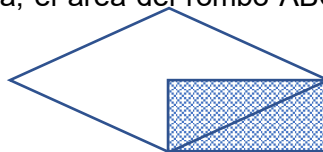


12. ¿Cuántas caras tiene el siguiente sólido?

- A. 10
- B. 6
- C. 7
- D. 9



13. Una pareja de hámster, da una vez cada 15 días una camada de 6 hámster (3 machos y 3 hembras), al cabo de 2 meses del nacimiento los hámsters recién nacidos ya pueden dar cría. ¿Cuántos hámsters habrá al cabo de tres meses, si al comienzo había un par de hámsters?
- A. 56
B. 28
C. 19
D. 38
14. Tres números cuya suma es 208 guardan entre si la relación entre los números 4, 8 y 14. ¿Cuál es el menor de los números?
- A. 32
B. 24
C. 30
D. 58
15. Un niño compro un litro de helado a S/. 12.00 soles que es el 15% de sus ahorros semanales de sus propinas. ¿Cuánto de dinero tiene ahora el niño, en soles?
- A. S/. 68.00
B. S/. 10.20
C. S/. 69.88
D. S/. 80.00
16. Factorizar: $P(x) = x^5 + x^2 - x - 1$
- E. $(x + 1)(x - 1)(x^3 + x + 1)$
F. $(x - 1)(x + 3)^2$
G. $(x + 1)^2(x - 1)$
H. $(x - 1)^2(x + 1)$
17. Encuentre un número tal que, sumando un tercio, un quinto y un sexto del mismo, dé como resultado 21.
- A. 30
B. 14
C. 21
D. 51
18. El supervisor gana el triple que el maestro de obra, que gana el doble del obrero. El supervisor gana el doble que el residente de obra. Si en total ganan S/. 12,000.00 soles. ¿Cuánto gana el residente de obra?
- A. S/. 3,000.00
B. S/. 2,000.00
C. S/. 1,000.00
D. S/. 1,500.00
19. En la figura que se muestra, el área del rombo ABCD con relación al área del rectángulo AMDO es:
- A. El doble
B. La mitad
C. El triple
D. El cuádruple



20. Hallar el área sombreada si $AB=CD$ y ABCD es un trapecio de área igual a $270 m^2$

- A. $81\pi m^2$
- B. $32\pi m^2$
- C. $16\pi m^2$
- D. N.A πm^2

